



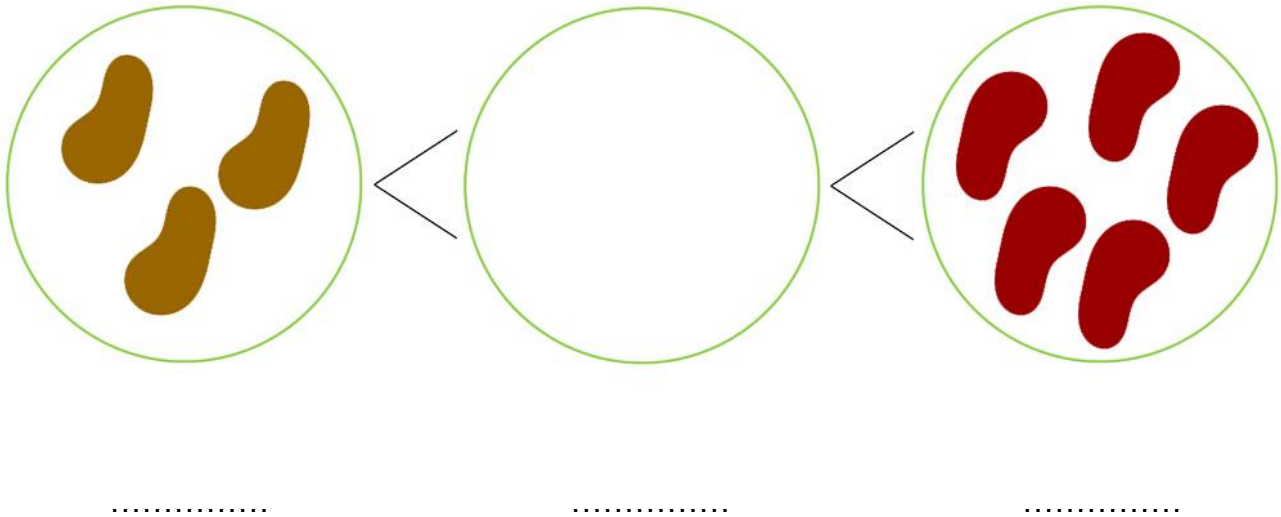
**Zöld Matek**  
**1. osztályos**  
**feladatlapok**

**2016**

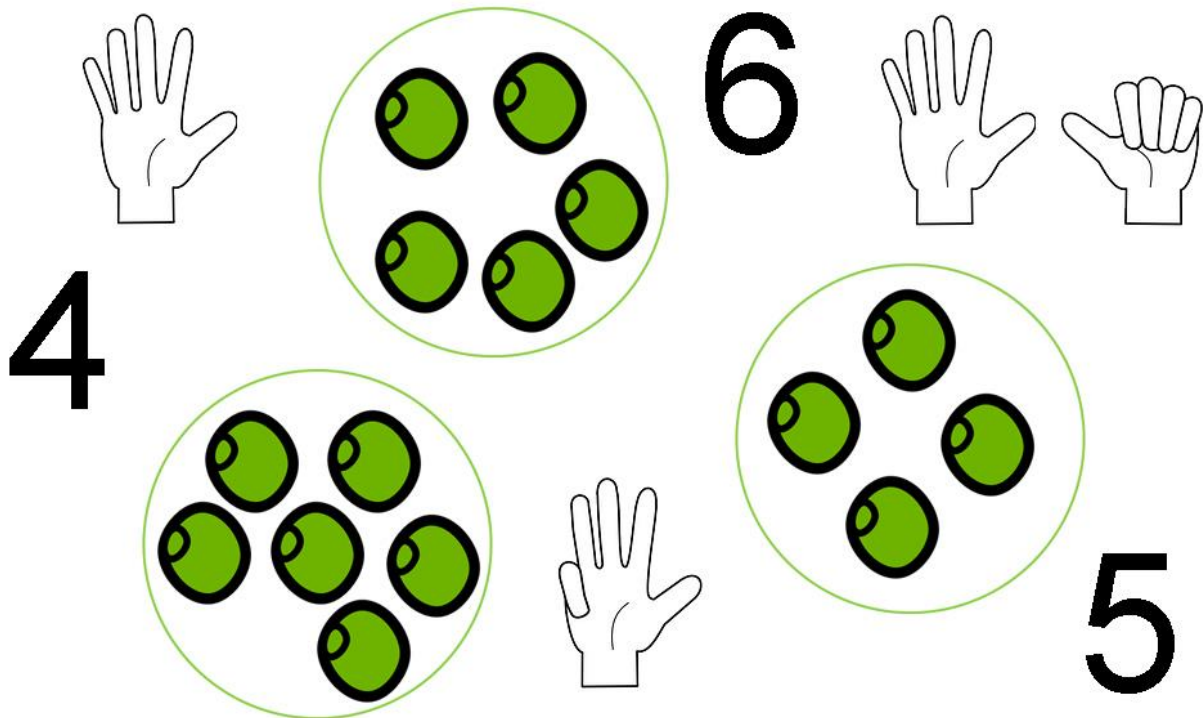


## 1. osztály

1. Rajzolj a középső körbe annyi babszemet, hogy igaz legyen! Írd a karikák alá a pontozott vonalra a babszemek számát!




2. Számold meg, hány borsószem van a karikában! Kösd össze a megfelelő számmal és azzal a kézzel, amelyik azt a számot mutatja!






## 1. osztály

1. Gábor 12 kék gombot szeretne összegyűjteni. Egészítsd ki a rajzot, hogy 12 legyen! Írd a kép alá számmal is!




$$7 + \dots = 12$$

2. Panni 15 piros gombbal díszíti a rajzát. Egészítsd ki a rajzot, hogy 15 legyen! Írd a kép alá számmal is!



$$8 + \dots = 15$$

3. Eszti 14 zöld gombot válogat ki a dobozból. Egészítsd ki a rajzot, hogy 14 legyen! Írd a kép alá számmal is!



$$5 + \dots = 14$$



## 1. osztály

Ezen a térképen az Ópusztaszeri Nemzeti Történelmi Emlékpark épületeit és helyszíneit látod. Játsszunk egy kicsit a számokkal!



1. Keresd meg a térképen és karikázd be pirossal a Puszta Házát!

2. Kék színessel karikázd be a páros számokat a térképen!

3. Hány darab páros számot találtál? Számold meg és írd ide az eredményt!

.....

4. Melyik a legnagyobb szám a térképen?

.....

5. Keresd meg a térképen a Lovaspályát és írd ide a számát!

.....

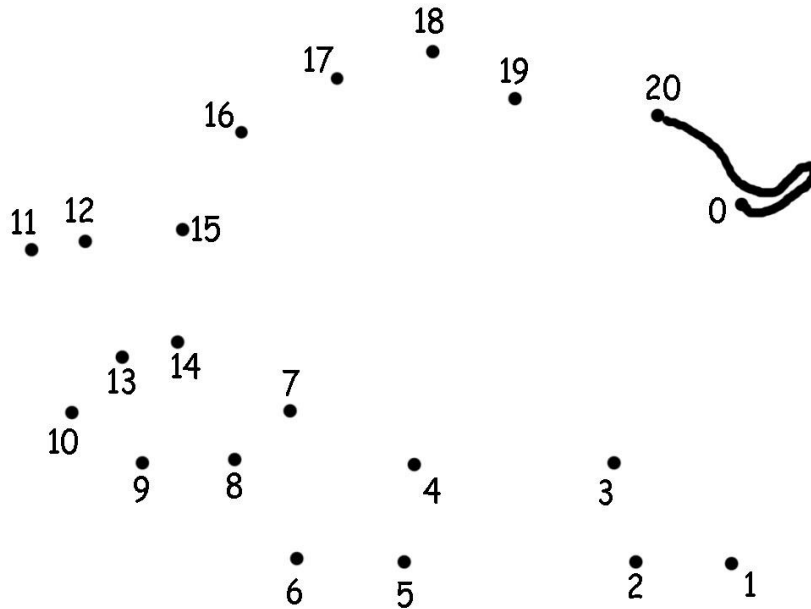
6. Sorold fel és a térképen zöld színessel karikázd be a 10-nél kisebb páratlan számokat!

.....

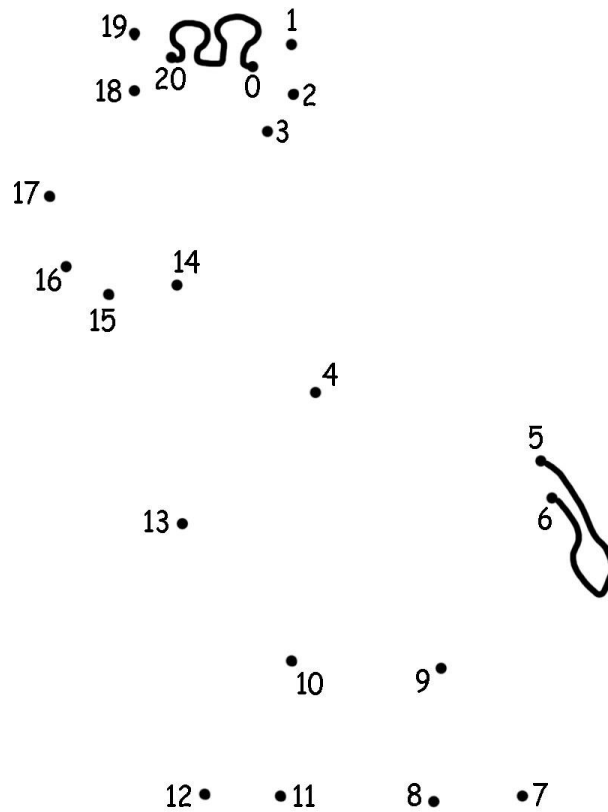


# 1. osztály

Melyik állatkerti lakók vannak a képen? Kösd össze a pontokat 0-tól 20-ig!



Írd ide az állat nevét: .....





Írd ide az állat nevét: .....



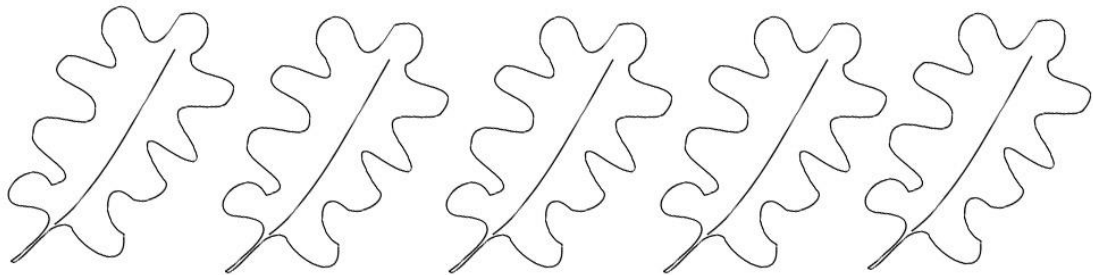


## 1. osztály

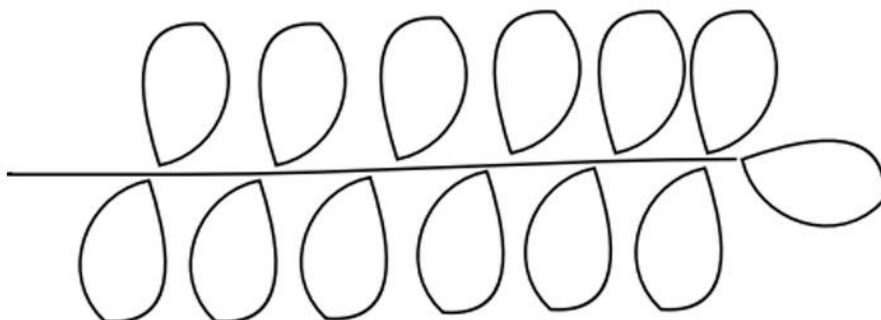
Melyik levélből hány darab van? Kösd a leveleket a számegeyenes megfelelő pontjához!



2. Színezz ki 3 falevelet!



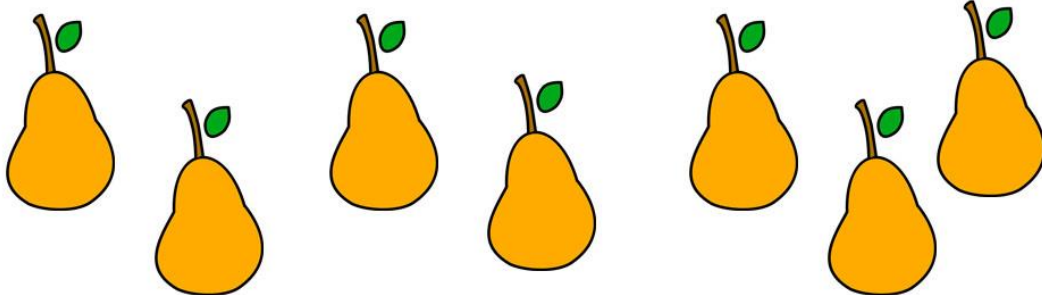
3. Színezd ki 5 falevelet!






## 1. osztály

1. Marci a tálon megszámolta a körtéket. Ennyi körtét számolt:




Ezután eltett az uzsonnás dobozába 2 körtét és elindult az iskolába. Hány körte maradt a tálon? Írd le, hogyan számoltál!

2. Gabi anyukájával a boltban ennyi kiflit pakolt a kosárba:



Otthon a család vacsorára megevett 5 kiflit, a többiből Gabi anyukája szendvicseket fog készíteni reggel. Hány szendvics készül majd?

3. Pisti diót pucol a süteményhez. Számold meg, hány dióval készült már el!

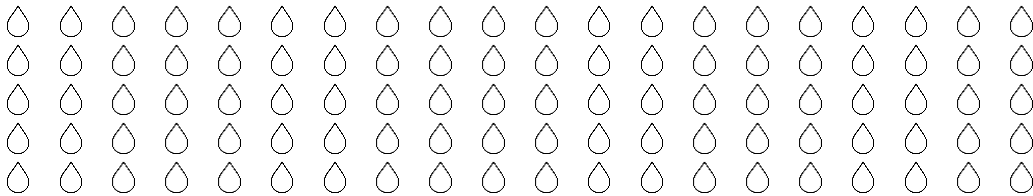


Pisti összesen 20 diót szeretne feltörni. Hány diót vegyen még a kosárból, hogy készen legyen a 20 darabbal?

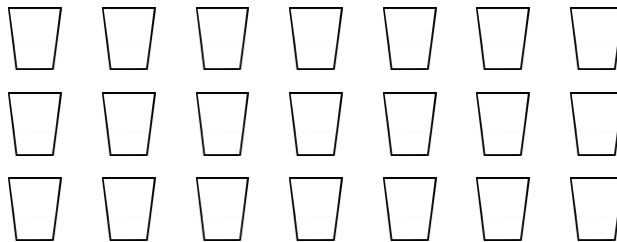


## 1. osztály

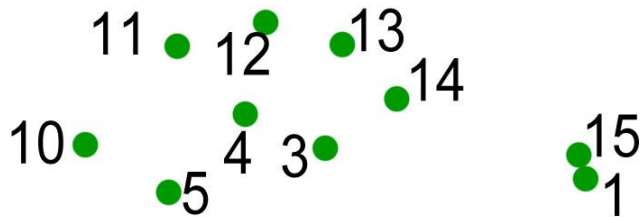
1. Bolbától megtudhatod, hogy bolygó felszínén lévő víz legnagyobb része sós! Ez bizony azt jelenti, hogy 100 csepp vízből csupán 2 vagy 3 csepp édesvíz.  
Itt látod ezt a 100 cseppet. Színezz kékre annyit, amennyi az édesvíz!



2. Bolba arra is figyelmeztet, hogy ha nyitva hagyod a csapot fogmosás közben, egyetlen perc alatt 16 pohárnyi víz folyik el. Tölts meg 16 poharat!



3. Kösd össze a számokat 1-től 15-ig! Honnan folyik a víz?



2



9

6

8 • 7






## 1. osztály

### Európai Hulladékcsökkentési Hét Többet ésszel, mint csomagolással!

Csoportosítsd a képen látható háztartási szereket és kozmetikumokat a csomagolásuk szerint! Ha környezetbarát a csomagolás, húzd egy nyíllal a fához! Ha a csomagolás nem környezetbarát anyagból van, akkor kösd a hulladékgyűjtőhöz!



## Sudoku kicsiknek

Vágd ki a sudoku-tábla alatti képeket és a kivágott kártyákat helyezd el a sudoku-táblán:

- minden sorban és oszlopban csak egyszer szerepelhet minden kép
- a vastag vonallal feldarabolt területeken is csak egyszer szerepelhet minden ábra

