



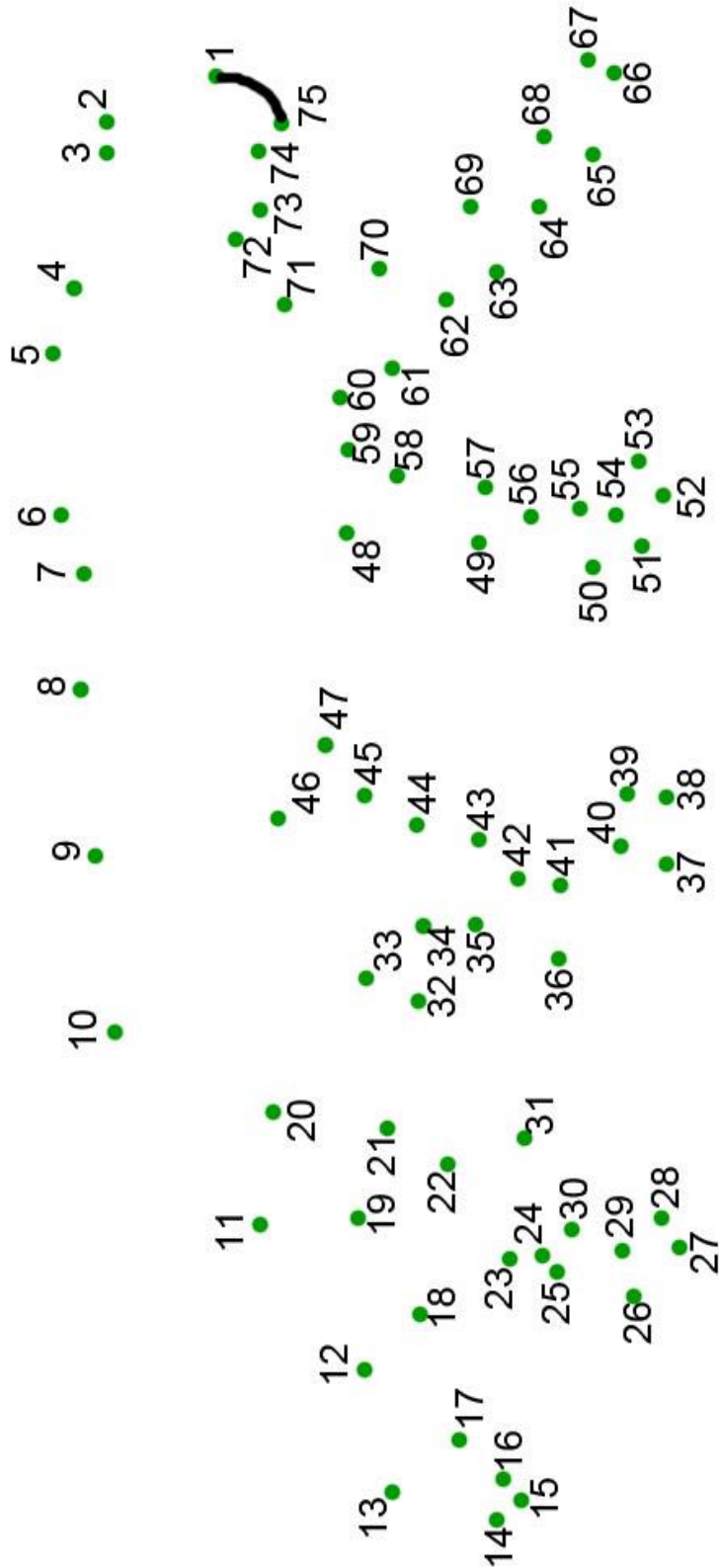
Zöld Matek
2. osztályos
feladatlapok

2017



2. osztály



Kösd össze a számokat 1-től 75-ig! Milyen állat van a képen?







2. osztály

1. Pakold a ládába hármassával az almákat! Írj róla szorzást!





--	--	--	--	--	--	--	--

2. Pakold a ládába ötösével a répákat! Írj róla szorzást!



--	--	--	--	--	--	--	--

3. Pakold a ládába hatosával a körtéket! Írj róla szorzást!



--	--	--	--	--	--	--	--



2. osztály

A vörösfülű ékszerteknősök veszélyeztetik a mocsári teknősöket, mert megeszik előlük a táplálékot.



mocsári teknős






vörösfülű ékszerteknős

1. Egy halastóban 16 mocsári teknős és 7-tel kevesebb vörösfülű ékszerteknős él. Hány teknős él összesen a halastóban?
2. Egy folyó holtágában 23 mocsári teknőst számoltak meg. Az elmúlt években az emberek ebben a holtágba engedtek szabadon 11 vörösfülű ékszerteknőst. Hány teknős él együtt most ezen az élőhelyen?
3. Egy kis sziklán egyszerre 4 teknős fér el. Összesen hány sziklára van szüksége 20 teknősnek, hogy mindenki tudjon napozni?



2. osztály


Vajon melyik eszközt tölti fel a napelem? Az elemeket, a telefont vagy a zseblámpát?
Indulj el a kép tetején a napelemtől és keresd a kijáratot!






2. osztály

1. Pakold az akváriumba ötösével a halakat! Írj róla szorzást!




--	--	--	--	--	--	--

2. Pakold az akváriumba hármásával a halakat! Írj róla szorzást!



--	--	--	--	--	--	--

3. Pakold az akváriumba négyesével a halakat! Írj róla szorzást!



--	--	--	--	--	--	--