



**Zöld Matek**

**4. osztályos**


**feladatlapok**

**2018. 1. félév**



## 4. osztály



Vezesd el a földikutyát a járatain át a finom iringóhoz!



## Sudoku nagyoknak

Vágd ki a tábla alatti képeket és a kivágott kártyákat helyezd el a sudoku-táblán:

- minden sorban és oszlopban csak egyszer szerepelhet minden kép
- a vastag vonallal feldarabolt területeken is csak egyszer szerepelhet minden ábra





## 4. osztály

1. Panni és Kata ebben a hónapban négyszer vásárolt a papírboltban.

Mindig ugyanazt vették, de Panni minden alkalommal fizetett a bevásárló szatyorért is 75 Ft-ot.

Mennyi volt az egyes vásárlások értéke külön-külön és összesen? Töltsd ki a táblázatot!

Panni	280 Ft	308 Ft		
Kata	205 Ft		427 Ft	
Összesen	485 Ft			1007 Ft

2. Az óceánok tele vannak műanyag hulladékkal. A hatalmas nyílt vízi szemétszigetek visszafordíthatatlan pusztulást okoznak az élővilágban. Az alábbi képen a partvidék hordalékát mutatja.

Váltsd át a hiányzó adatokat!

- a) Négy francia felfedező a Sargasso-tengeren a Bermudáknál tett nyolchónapos útjuk alatt megdöbbenve tapasztalta, hogy 10 percenként = ..... óránként úszó szeméttelpekkel találkoznak.
- b) A Csendes-óceán felszínén elhelyezkedő szemétsziget mélysége akár 30 méter = ..... cm is lehet.
- c) A tervezett óceántakarító rendszerben a lebegő hulladék egy 11 méter = ..... dm átmérőjű, 58 méter = ..... mm magas henger alakú begyűjtő toronynál sodródik össze.
- d) Az összegyűjtött hulladékot 45 naponta = ..... óránként kell hajóra üríteni és elszállítani.